

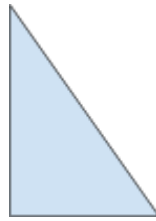


גיאומטריה - דף עבודה

שם: _____ תאריך: _____

חלק 1: זיהוי הצורות

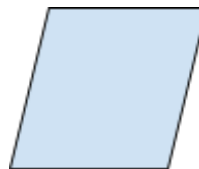
הסתכל על הצורות למטה וכתוב את שמה של כל צורה.




א.




ב.



ג.



ד.



ה.



חלק 2: ספירת צלעות וקודקודים

ספור את מספר הצלעות והקודקודים בכל צורה.

א. משולש:

- צלעות: _____
- קודקודים: _____

ב. מלבן:

- צלעות: _____
- קודקודים: _____

ג. מעגל:

- צלעות: _____
- קודקודים: _____

ד. ריבוע:

- צלעות: _____
- קודקודים: _____

ה. מחומש:

- צלעות: _____
- קודקודים: _____

חלק 3: ציור צורות

צייר את הצורות הבאות:

א. משולש עם בסיס באורך 5 ס"מ וגובה באורך 4 ס"מ.

ב. מלבן שצלעותיו הן 6 ס"מ ו-3 ס"מ.

ג. מעגל עם רדיוס של 2 ס"מ.

ד. ריבוע שצלעותיו באורך 7 ס"מ.

ה. משושה שווה צלעות, כך שכל צלע באורך של 8 ס"מ.



בוסט לימודים - לימודי מתמטיקה לכל הרמות
רחוב ברנר 1
ליצירת קשר: 050-7555318

חלק 4: תיאור צורות

רשום צורה מתאימה לכל תיאור.

- א. צורה עם ארבע צלעות שוות וארבע זוויות ישרות.
ב. צורה עם חמש צלעות.
ג. צורה עם שלוש צלעות.
ד. צורה בלי צלעות ועם רדיוס.
ה. צורה עם ארבע זוויות ישרות.

חלק 5: בעיה מילולית

א) לשרה יש גינה בצורת מלבן. אם אורך הגינה הוא 12 מטר והרוחב הוא 8 מטר, מהו היקף הגינה?

ב) צייר שלושה מלבנים ששטחם הוא 24 ס"מ.

בהצלחה!



בוסט לימודים - לימודי מתמטיקה לכל הרמות
רחוב ברנר 1
ליצירת קשר: 050-7555318