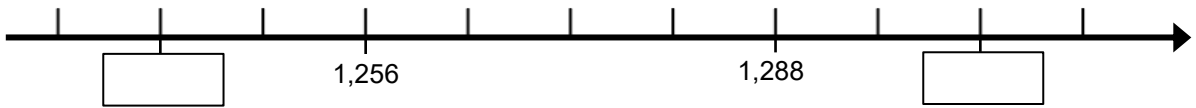
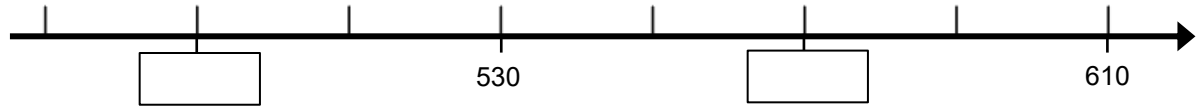
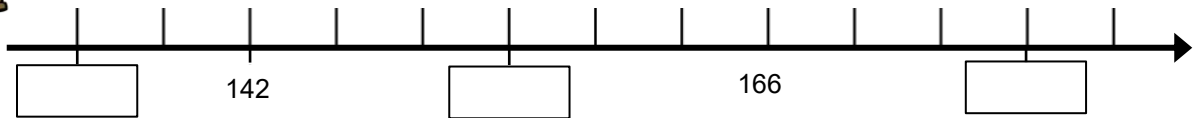


ישר המספרים

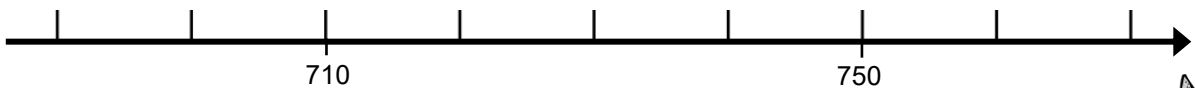


השלימו את המספרים החסרים על ישרי המספרים:



השלימו את המספרים מתחת לשַנְתוֹת על ישר המספרים.
מתחו קו, בערך, מהמספרים הנתונים אל מיקומם על ישר המספרים.

728	693	719	688	765
-----	-----	-----	-----	-----



סדר פעולות ההשבון

1) $72 - (28 + 3) =$ _____

2) $4 + 5 \times 7 =$ _____

3) $24 : (3 \times 2) =$ _____

4) $24 : 3 \times 2 =$ _____

5) $(30 + 6) : 6 =$ _____

6) $26 - 4 \times 4 + 2 =$ _____

7) $32 + 15 + 18 + 5 =$ _____

8) $4 \times 7 - 2 \times 6 =$ _____